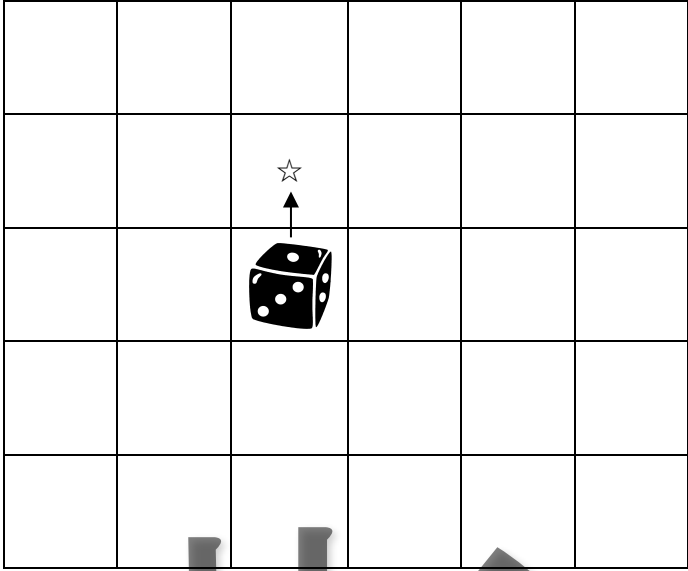


なまえ：

1

やじるし とおり ころがした うえ めん すうじ
 さいころを矢印の通りに☆まで転がしたとき、上の面にくる数字は
 なん むかいあうめん すうじ たす かならず
 何ですか？(さいころは、向かい合う面の数字を足すと、必ず7
 になります)



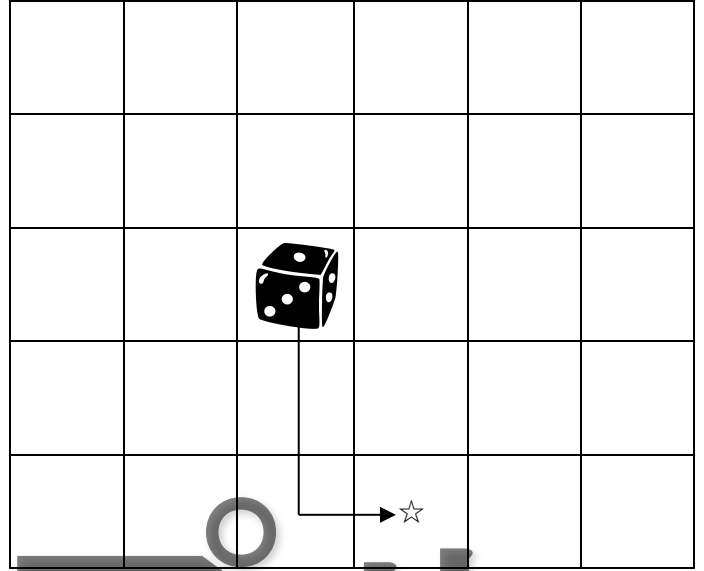
サン

なまえ：

なまえ：

15

やじるし とおり ころがした うえ めん すうじ
 さいころを矢印の通りに☆まで転がしたとき、上の面にくる数字
 なん むかいあうめん すうじ たす
 何ですか？(さいころは、向かい合う面の数字を足すと、
 かならず
 必ず7になります)

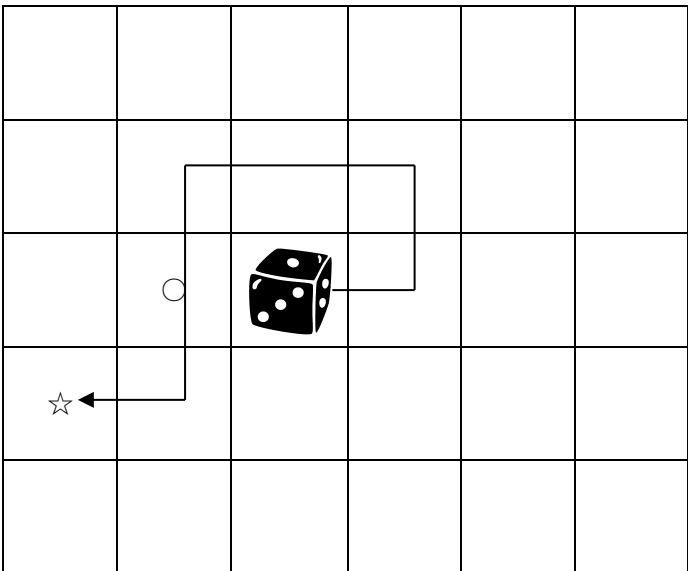


パル

なまえ：

30

やじるし とおり ころがした うえ
 さいころを矢印の通りに☆まで転がしたとき、○と☆のマスで上の
 めん すうじ なん むかいあう
 面にくる数字は、それぞれ何ですか？(さいころは、向かい合う
 めん すうじ たす かならず
 面の数字を足すと、必ず7になります)



60

やじるし とおり ころがした
 さいころを矢印の通りに☆まで転がしたとき、○と□と☆のマスで
 うえ めん すうじ なん
 上の面にくる数字は、それぞれ何ですか？(さいころは、
 むかいあうめん すうじ たす かならず
 向かい合う面の数字を足すと、必ず7になります)

